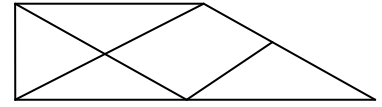


В гостях у геометрии
4 класс(маx 8 баллов)

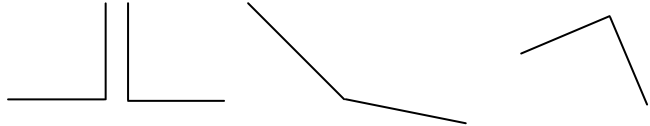
Задание №1

- Сколько треугольников на рисунке? (7)



Задание №2

- Какая фигура лишняя?

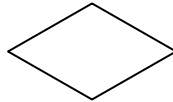



Задание №3

- Чем похожи и чем различаются фигуры? (сходство: 4 угла, 4 стороны, четырехугольники

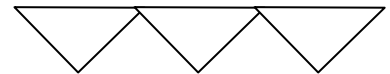
и непрямые)

различие: углы прямые



Задание №4

- Сложи три треугольника. Переложи две палочки так, чтобы их стало 4.



Задание №5

- Проведи в треугольнике две линии так, чтобы получилось 4 треугольника и 1 четырехугольник.

Задание №6 Верно ли утверждение, что четырехугольник с одинаковыми сторонами является квадратом?(нет, это может быть ромб)