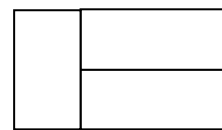


В гостях у геометрии
3 класс (мак 8 баллов)

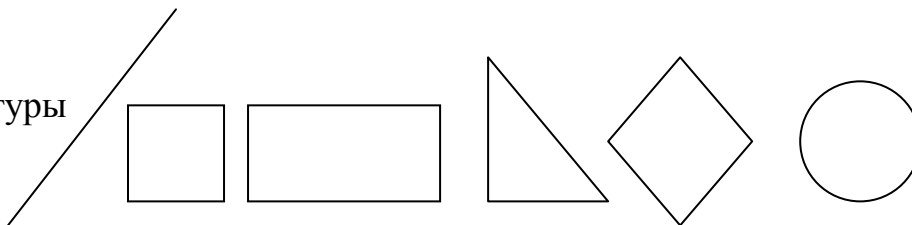
Задание №1

- Сколько прямоугольников на рисунке? (5)



Задание №2

- Назовите фигуры

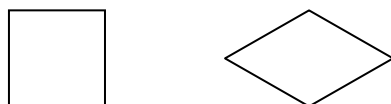


Задание №3

- Чем похожи и чем различаются фигуры? (сходство: 4 угла, 4 стороны, четырехугольники

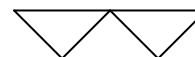
различие: углы прямые

и не прямые)



Задание №4

- Сложи из 7 палочек три треугольника.



Задание №5

- Веревку разрезали на 5 частей? Сколько разрезов сделали?

Задание №6

- В колесе 12 спиц. Сколько промежутков между спицами? (12)