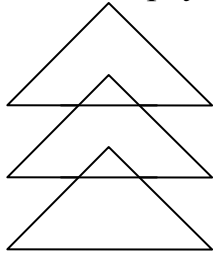
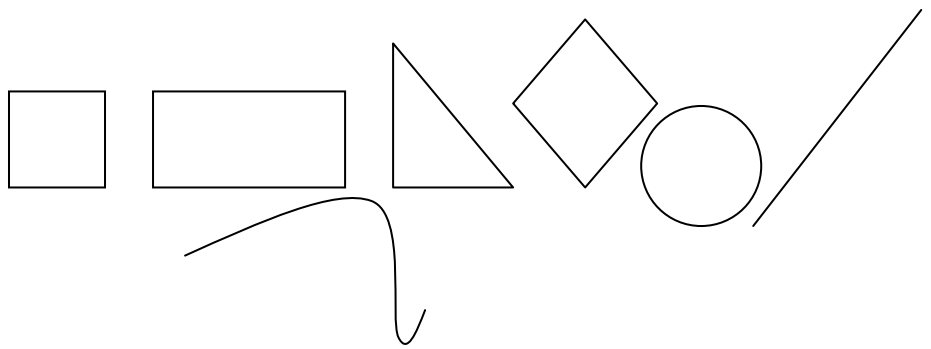


В гостях у геометрии
1-2 класс (max 8 баллов)

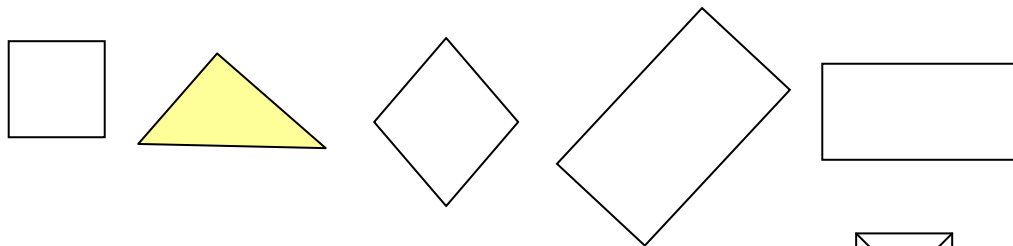
Задание №1
Сколько треугольников?



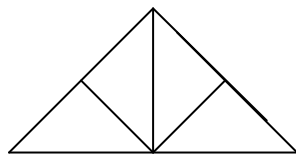
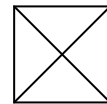
Задание №2
Назовите фигуры



Задание №3 Назовите лишнюю фигуру. Почему она лишняя?

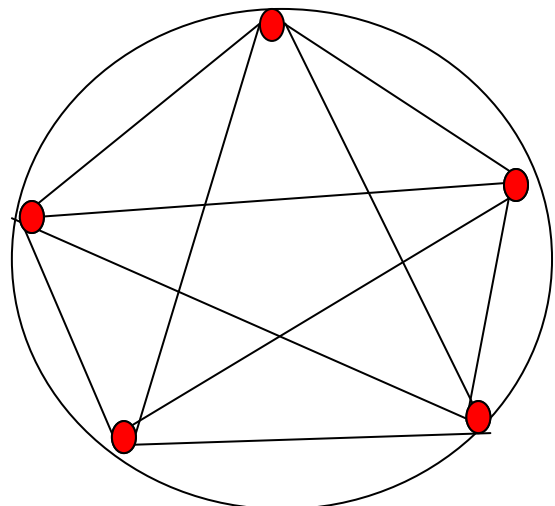


Задание №4 Из 4-х треугольников сложи квадрат



большой треугольник

Задание №5 (рисунок на доске)



По краю круглого торта поставили 5 точек из крема на одинаковом расстоянии друг от друга. Через все точки сделали разрезы. Сколько кусочков торта получилось? (16 кусочков)