

Итоговая контрольная работа по математике.

1. Запиши примеры столбиком, и найдите их значения:

$38+42=$

$54+8=$

$29+51$

$67-25=$

$80-5=$

$94-21=$

2. Сравните:

$9 \text{ дм} * 1 \text{ м}$

$25 \text{ см} * 2 \text{ дм}$

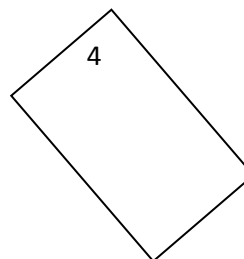
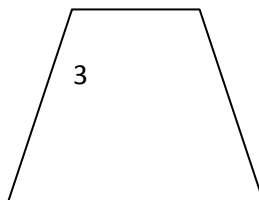
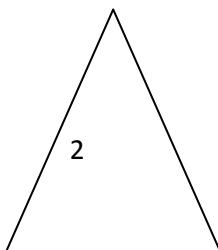
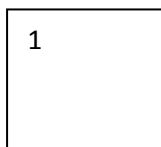
$1 \text{ ч} * 40 \text{ мин}$

$97-50-7*35$

3. Решите задачу:

На коньках катались 15 мальчиков и 7 девочек. Потом 4 девочки ушли домой. Сколько детей осталось?

4. Запиши номера прямоугольников.



Найди периметр 3 фигуры в миллиметрах.

5. Сколько прямоугольников изображено на рисунке?

